

SOAL IPS KELAS IX

1. Bencana alam yang sering terjadi berupa gempa vulkanik, gunung meletus di Indonesia akhir akhir ini secara alami di sebabkan
 - a.Indonesia berada pada pertemuan 3 lempeng benua.
 - b .Indonesia berada pada jalur ring fire gunung api
 - c.Indonesia memiliki lapisan tanah yang labil
 - d, Indonesia negara kepulauan di katulistiwa
- 2.Jumlah penduduk Indonesia sangat besar diatas 200 juta, dengan angka kelahiran tinggi untuk mencegah ledakan penduduk di Indonesia upaya yang dilakukan sebaiknya
 - a. memberi layanan pendidikan gratis kepada penduduk indonesia
 - b. menyediakan fasilitas tempat tinggal bagi penduduk yang tidak mampu
 - c. menyelenggarakan program transmigrasi secara swadaya dan swakarsa
 - d.mengadakan program keluarga berencana secara terpadu.
3. Untuk menciptakan kelangsungan hidup yang nyaman dan bersih perlu upaya menjaga kelestarian lingkungan yang dilakukan dengan cara
 - a. tidak menggunakan kendaraan bermotor
 - b .membuat pusat industri baru di pinggiran kota
 - c .menanam kembali lahan lahan yang kosong
 - d .membuka areal pertambangan secara bebas

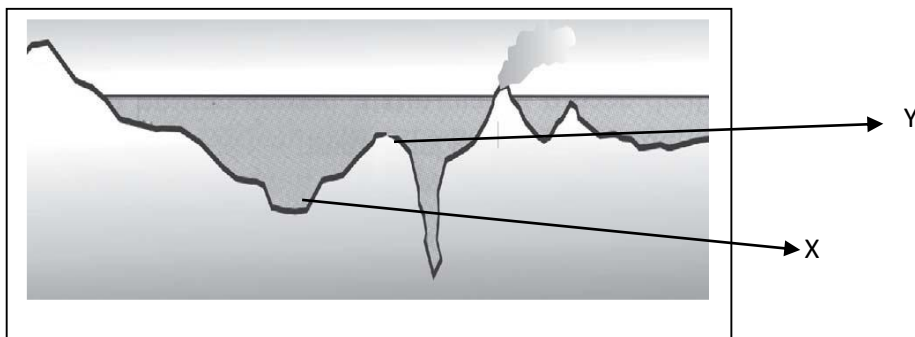
4. Perhatikan tabel berikut!

Kode	Indikator
1.	Fasilitas umum kurang memadai
2.	Sedikit ketergantungan pada alam
3.	Tingkat pendidikan rata rata rendah
4.	Angka kelahiran kecil
5.	Mobilitas penduduk cukup tinggi
6.	Angka harapan hidup tinggi .

Dari tabel diatas yang menjadi indikator ciri-ciri negara maju di tunjukkan dengan angka

- a. 1, 2, 3
 - b. 2,3, 6
 - c. 1, 3, 5
 - d. 2, 4, 6
5. Pada peta topografifi, jika garis pada peta kontur dibuat yang jaraknya semakin rapat akan menggambarkan kenampakan obyek geografi yang berbentuk
 - a. Semakin terjal lereng permukaan bumi
 - b. Semakin cekung permukaan bumi
 - c. Semakin landai lereng permukaan bumi
 - d. Semakin tinggi permukaan buminya.

6. Perhatikan gambar berikut!

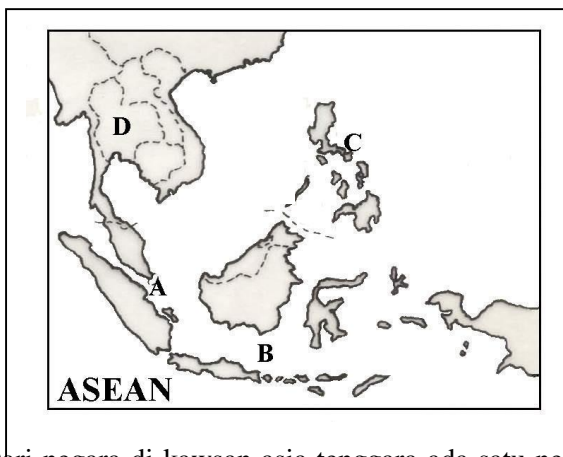


Berdasarkan Gambar penampang melintang muka bumi di dasar laut diatas yang ditunjukkan pada huruf X dan Y adalah

- a. Basin dan Guyot
- b. Lubuk laut dan ambang laut
- c. Lereng Benua dan Palung Laut
- d. Shelf dan Gunung Laut

7. Jika kita mencari obyek geografi Tanah Genting Kra, Sungai Mekong, Laut Sulu dan Pegunungan Arakanyoma dapat ditemukan di kawasan
- Asia Barat
 - Asia Timur
 - Asia Selatan
 - Asia Tenggara
8. Dilihat dari posisi astronomis Asia Tenggara yang terletak pada 11 LS 28 LU maka wilayah Asia Tenggara beriklim
- laut sedang
 - tropis
 - subtropis
 - sedang
9. Negara Indonesia dan Pilipina kepala negara dan kepala pemerintahanya seorang presiden maka pemerintahanya berbentuk
- kerajaan konstitusi
 - republik parlemen
 - republik presidensiil
 - onarki

10.

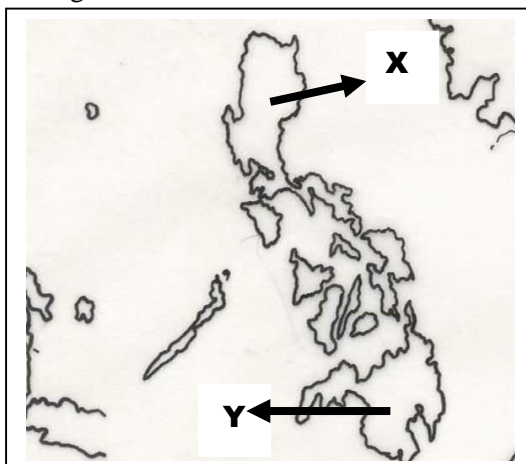


Pada gambar disamping peta asia tenggara yang diberi tanda hurup C dan D adalah negara....

- Negara Malaysia dan Negara Philipina
- Negara Malaysia dan Negara Singapura
- Negara Thailand dan Negara Philipina
- Negara Mianmar dan Negara Vietnam

11. Dari negara di kawasan asia tenggara ada satu negara yang tidak memiliki batas perairan, negara manakah yang tidak memiliki batas dengan laut tersebut
- Thailand
 - Philipina
 - Indonesia
 - Kamboja

12. Perhatikan gambar!

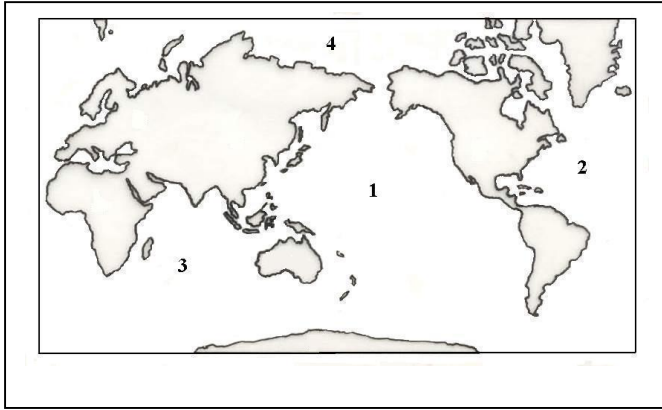


Dari gambar diatas pulau terpenting di Negara Philipina adalah pulau yang diberi tanda X dan Y adalah

- Luzon dan Mindanau

- b. Palawan dan Cebu
- c. Panay dan Negros
- d. Samar dan Mindoro

13.



Berdasarkan Gambar diatas perairan disamping yang diberi tanda angka 1 adalah Samudera ...

- a. Artik dan Atlantik
- b. Hindia dan Pasifik
- c. Pasifik dan Atlantik
- d. Pasifik dan Hindia

14.

No	Negara	No	Negara
1	Saudi Arabia	5	Yordania
2	Pakistan	6	Thailand
3	Iran	7	Srilangka
4	India	8	Korea selatan

Dari tabel diatas negara yang termasuk kawasan Asia Barat ditunjukkan no ...

- a. 1, 3, 5
- b. 2, 4, 7
- c. 4, 5, 6
- d. 6, 7, 8

15.

No	Negara	No	Negara
1	Spanyol	5	Yunani
2	Inggris	6	Norwegia
3	Italia	7	Denmark
4	Jerman	8	Portugal

Dari data negara eropa diatas yang termasuk eropa barat di tunjukkan no ...

- a. 1, 3
- b. 2, 4
- c. 4, 6
- d. 5, 7

Jawablah pertanyaan berikut dengan jawaban yang tepat!

- 16. Sebutkan peran ekonomi kelautan bagi perekonomian Indonesia!
- 17. Sebutkan empat karakteristik samudera pasifik!
- 18. Sebutkan tokoh pemrakarsa berdirinya Konferensi Asia Afrika (KAA)!
- 19. Sebutka peran Indonesia dalam Gerakan Non Blok (GNB)!
- 20. Sebutkan kronologi peristiwa pertempuran dilaut Aru!